

Occhio alla mappa.

Gioco di 4 livelli e un domandone finale.

Creato da _____
con l'aiuto di _____

Luogo _____ - piazza - scuole - Via _____ - Via _____ - Via _____

Materiale necessario:
carta, matita, gomma, bindella, carta geografica turistica di Locarno 1:10'000, carta 1:25'000 di Locarno, riga di 30 cm.


IDEA

Il gioco si svolge in città.
Bisogna trovare una serie di indizi.
Risolvere qualche quiz, per sbloccare i livelli che ti condurranno alla vittoria.


SCOPO

Imparare ad usare le mappe.

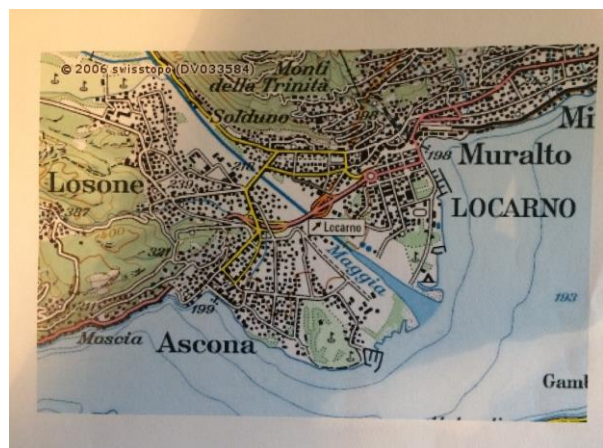
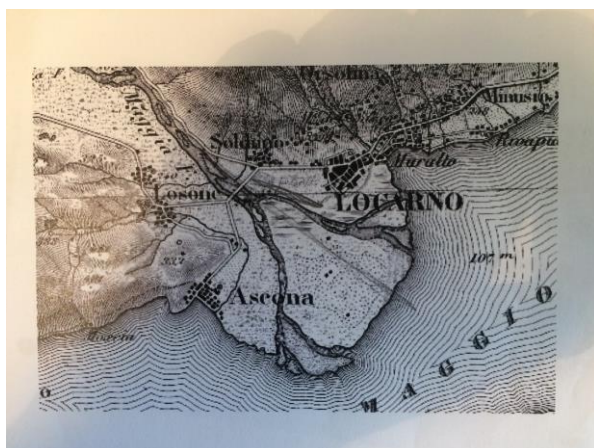
mappa turistica



mappa 1:25000



Il delta di Locarno



INFORMAZIONI TECNICHE

Cartine geografiche

1 : 10'000	→	1 cm corrisponde a	100 m
1 : 25'000	→	1 cm corrisponde a	250 m
1 : 500'000	→	1 cm corrisponde a	5 km
1 : 1'000'000	→	1 cm corrisponde a	10 km
1 : 5'000'000	→	1 cm corrisponde a	50 km

UNITÀ DI MISURA DI LUNGHEZZA

mm – cm – dm – m – dam – hm - km

CHE I GIOCHI ABBIANO A COMINCIARE!

LIVELLO 1

DOMANDA 1 : Quando è stata consacrata la chiesa di S. Giovanni Battista di Solduno?

(risposta?)

DOMANDA 2 : Quanto alta è Cardada?

(risposta?)

DOMANDA 3 : Qual'è il toponimo più vicino al Pizzo Leone situato a 1570 m di altezza?

(risposta?)

DOMANDA 4 : Qual'è il secondo nome del Lago Maggiore?

(risposta?)

DOMANDA 5 : Quanto è lo 0 idrometrico (altezza) del Lago Maggiore?

(risposta?)

FINE DEL LIVELLO!

LIVELLO 2

DOMANDA 1 : Quanto è lunga la scuola di Solduno?

(risposta?)

DOMANDA 2 : Quanti posteggi ci sono alla Coop di Solduno, via Vallemaggia – via Passetto

(risposta?)

DOMANDA 3 : Sulla cartina turistica 1:10'000, in che settore si situa il debarcadere di Locarno?

(risposta?)

DOMANDA 4 : Sulla cartina turistica 1:10'000, quanto è lunga via Vallemaggia?

(risposta?)

risposta di tolleranza di più o meno 200 metri

DOMANDA 5 : quanti scalini ci sono alla fermata di Solduno del trenino “Locarno- Domodossola”?

(risposta?)

DOMANDA 6 : quanti scalini ci sono alla fermata S. Antonio del trenino “Locarno- Domodossola” ?

FINE DEL LIVELLO!

LIVELLO 3

DOMANDA 1 : Sulla cartina 1:10'000 quanto è lunga la scuola di Solduno?

(risposta?)

Quanto corrisponde in realtà?

(risposta?)

DOMANDA 2 : quante cartine 1:25'000 ci sono della Svizzera?

(risposta?)

DOMANDA 3 : Sulla cartina 1:25'000, dov'è situato di calcio della Morettina?

Indica le coordinate del riquadro

(risposta?)

DOMANDA 4 : quanti riquadri ci sono nella cartina 1:25'000 di Locarno (cartina 1312)?

(risposta?)

DOMANDA 5 : quanto è lunga la teleferica dalla Madonna del sasso a Cardada?

Usa la cartina 1.25'000

(risposta?)

tolleranza: 25 m (0,1cm)

DOMANDA 6: vai al campo della Morettina a scattare una fotografia!

DOMANDA 7 : perché tutto lungo la via S. Jorio c'è una scarpata?

(risposta?)

FINE DEL LIVELLO!

LIVELLO 4

DOMANDA 1 : quanto è lunga la scuola di Solduno?
Usa la bindella, tolleranza di 3m.

(risposta?)

DOMANDA 2 : quanto è larga la rotonda di piazza Castello(diametro)?
Usa la cartina 1:10'000, tolleranza di 10m (1mm)

(risposta?)

DOMANDA 3 : quali sono le coordinate della falconeria di Locarno?
Usa la cartina turistica

(risposta?)

DOMANDONE FINALE

Cosa significano:

FFS

NLM

TILO

FART



CONGRATULAZIONI!!!!!!

SEI UN/UNA BRAVO/A MAPPATORE VOLANTE!

GIOCO COMPLETATO AL 100%

CREDITI:



TUTTI I DIRITTI RISERVATI
2019

Elenco delle risposte!

<p>LIVELLO 1</p> <p>DOMANDA 1 : 1385</p> <p>DOMANDA 2 : 1329-1332 m</p> <p>DOMANDA 3 : Canva</p> <p>DOMANDA 4 : Verbano</p> <p>DOMANDA 5 : 193 m</p>	<p>LIVELLO 2</p> <p>DOMANDA 1 : 80 metri</p> <p>DOMANDA 2 : 30 x automobili e 4 x moto</p> <p>DOMANDA 3 : H5</p> <p>DOMANDA 4 : 3,7 km circa, risposta di tolleranza di più o meno 200 metri</p> <p>DOMANDA 5 : 45 scalini</p> <p>DOMANDA 6 : 47 scalini</p>
<p>LIVELLO 3</p> <p>DOMANDA 1 : 0,8 cm Quanto corrisponde in realtà? 80 m</p> <p>DOMANDA 2 : 247</p> <p>DOMANDA 3 : 2703- 2704 / 1113- 1114</p> <p>DOMANDA 4 : $17 \times 12 = 204$</p> <p>DOMANDA 5 : 7,1 cm = 17775 m tolleranza: 25 m (0,1cm)</p> <p>DOMANDA 6: mostra la fotografia!</p> <p>DOMANDA 7 : limite del fiume prima di essere incanalato</p>	<p>LIVELLO 4</p> <p>DOMANDA 1 : 76 m Usa la bindella, tolleranza di 3m.</p> <p>DOMANDA 2 : 110m Usa la cartina 1:10'000, tolleranza di 10m (1mm)</p> <p>DOMANDA 3 : 7F Usa la cartina turistica</p> <p>DOMANDONE FINALE: Ferrovie Federali Svizzere</p> <ul style="list-style-type: none">• Navigazione Lago Maggiore• Treni Regionali Ticino Lombardia• Ferrovie Autolinee Regionali Ticino• Posta• Campeggio• Teleferica• Posteggio